


# Oddział Międzyuczelniany PTTK w Warszawie

Egzamin na Organizatora Turystyki OM PTTK — 12.05.2015



Egzamin Trwa 2h. Składa się z „wejściówki” (5 pytań) oraz 44 pytań pogrupowanych w 10 działów. Punktacja dla poszczególnych pytań została przedstawiona obok.

Zaliczenie egzaminu polega na uzyskaniu:

- z „wejściówki” co najmniej 81 punktów — w przypadku uzyskania mniejszej liczby punktów praca nie będzie dalej sprawdzana,
- z działów co najmniej po 61 punktów.

Warunkiem dopuszczenia do ustnego egzaminu poprawkowego jest zdobycie po 61 punktów z przynajmniej 7 działów.

**Życzymy powodzenia! :)**

*Komisja Egzaminacyjna*

„Wejściówka”		
1		24
2		24
3		18
4		16
5		18
razem		100

Budownictwo drewniane		
6		16
7		30
8		25
9		29
razem		100

Etnografia		
10		16
11		28
12		16
13		40
razem		100

Architektura		
14		40
15		40
16		20
razem		100

PTTK jako organizacja		
17		18
18		12
19		30

20		10
21		30
razem		100

Pierwsza pomoc		
22		16
23		24
24		20
25		25
26		15
razem		100

Geografia turystyczna Polski		
27		30
28		34
29		36
razem		100

Historia turystyki		
30		24
31		40
32		12
33		24
razem		100

Terenoznawstwo		
34		50
35		20
36		15
37		15
razem		100

Przyroda i jej ochrona		
38		44
39		17
40		39
razem		100

Zagadnienia prawne w turystyce		
41		20
42		30
43		30
44		20
razem		100

--

## "Wejściówka"

### Pytanie 1 [24 pkt]

Podaj pełną nazwę Twojego macierzystego oddziału i koła PTTK.

--

### Pytanie 2 [24 pkt]

Podaj pełne nazwy jednego parku narodowego, parku krajobrazowego i rezerwatu przyrody w województwie mazowieckim.


### Pytanie 3 [18 pkt]

Podaj nazwy trzech komisji działających przy Oddziale Międzyuczelnianym PTTK w Warszawie.


### Pytanie 4 [16 pkt]

Rozwiń następujące skróty:


AKT	
WOPR	
COTG	
OInO	

### Pytanie 5 [18 pkt]

Określ kolejność, w jakiej powstały następujące towarzystwa (przypisz numery 1-3, gdzie

1-oznacza najstarsze, 3- oznacza najmłodsze):

GTT		PTK		PTTK	
-----	--	-----	--	------	--



## Budownictwo drewniane

### Pytanie 6 [16 pkt.]

1. Wybierz miejscowości, z których drewniane kościoły (nie cerkwie) zostały wpisane na Listę UNESCO? Możliwych kilka poprawnych odpowiedzi: [10pkt.]

1. Haczów

2. Sękowa

3. Kwiatów

4. Binarowa

5. Binarowa

6. Ulucz

7. Blizne

8. Jawor

2. Wymień rodzaje konstrukcji ścian w budownictwie drewnianym: [6 pkt.]

--	--	--


### Pytanie 7 [30 pkt.]

W max. 50 słowach opisz budowlę przedstawioną na zdjęciu. Jakiego jest typu, konstrukcja, budowa:



*fot. naszdomek.com.pl*

--

**Pytanie 8 [25 pkt.]**

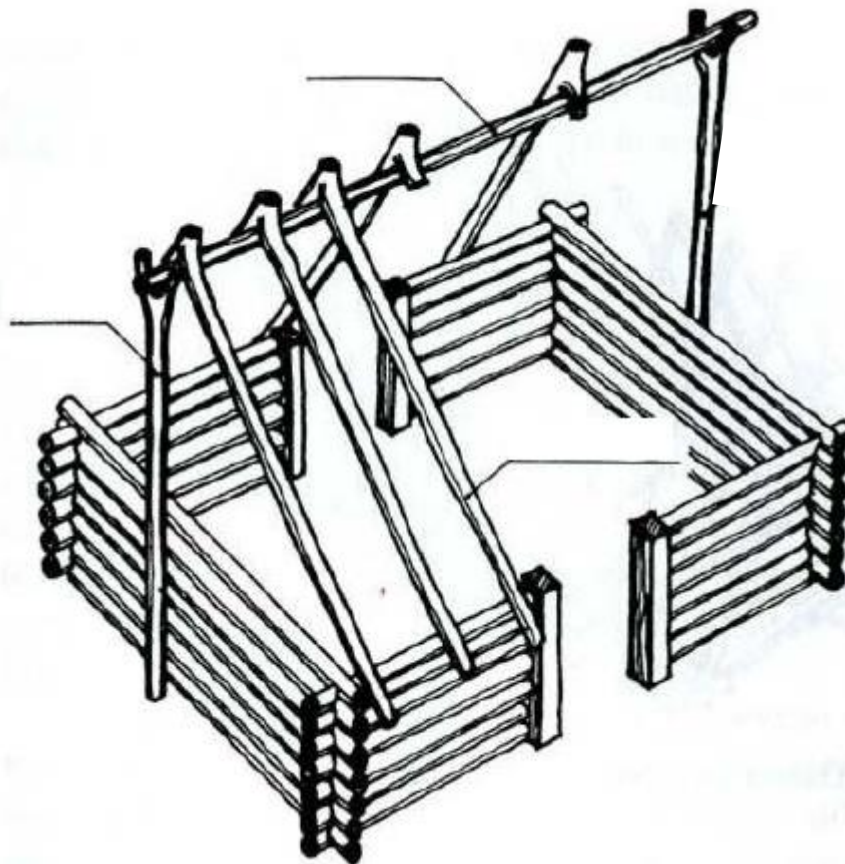
Wyjaśnij krótko, czym są:

Koźlak	
Chyża	
Ikonostas	
Belka tęczowa	
Rysie	

**Pytanie 9 [29 pkt.]**

1. Rozpoznaj typ konstrukcji dachowej i podpisz jej elementy: [14pkt]

.....



2. Dopasuj do siebie odpowiednio hasła: [15 pkt.]

1. Najstarszy budynek drewniany w Polsce	a) Kościół w Lachowicach
2. Typ śląski	b) Chałupa
3. Sypaniec	c) Świątynia Wang
4. Układ centralny	d) Kościół w Dębnie Podhalańskim
5. Zabytek na liście UNESCO	e) Spichlerz

1 ..... 2 ..... 3 ..... 4 ..... 5 .....



## Etnografia

### Pytanie 10 [16 pkt]

1. Wyjaśnij krótko różnicę pomiędzy mniejszością narodową a etniczną (wg ustawy). [10 pkt]

Mniejszość narodowa	
Mniejszość etniczna	

2. Wymień 2 ustawowe mniejszości narodowe, których państwa nie sąsiadują bezpośrednio z Polską. [6 pkt]

--	--

### Pytanie 11 [28 pkt]

1. Wymień wszystkie ustawowe mniejszości etniczne. [8 pkt]


2. Scharakteryzuj jedną, wybraną mniejszość etniczną. W opisie uwzględnij wyznanie, zwyczaje, główne ośrodki zamieszkania w Polsce. [20 pkt]

Mniejszość etniczna:
Opis:

### Pytanie 12 [16 pkt]

Z jaką (co najmniej jedną) religią kojarzą Ci się wymienione poniżej pojęcia?

Papież	
Muezin	
Święta Góra Grabarka	
Jad	
Carskie Wrota	
Bohoniki	
Zbór	
Koran	



### Pytanie 13 [40 pkt]

Dopasuj zawód do definicji / wykonywanej usługi:

A	Cyrulik	rzeźbienie w drewnie
B	Cadyk	naprawa pończoch
C	Ludwisarz	produkcja smaru
D	Repasarka	wykonywanie zbroi
E	Zecer	odlewanie z brązu, miedzi, mosiądzu lub spiżu
F	Snycerz	wypalanie węgla drzewnego
G	Maziarz	budowa i naprawa pieców
H	Płatnerz	charyzmatyczny przywódca chasydyzmu, podobno umiał uzdrawiać i czynić cuda
I	Smolarz	golenie, kąpanie, rwanie zębów, czyszczenie uszu, upuszczanie krwi
J	Zdun	przygotowanie składu ręcznego lub maszynowego do druku

## Architektura

### Pytanie 14 [40 pkt]



Opisz w co najwyżej 50 słowach budynek przedstawiony na zdjęciu.



### Pytanie 15 [40 pkt]

Określ style zabytkowych budowli z terenu Polski widocznych na zdjęciach i orientacyjne ramy czasowe, w jakich te budowle mogły powstać, opisz charakterystyczne cechy budowli wznoszonych na terenie Polski w tych stylach i podaj po jednym innym przykładzie obiektów reprezentujących te style.




Styl [2 pkt]		Styl [2 pkt]	
Przybliżony czas powstania [2 pkt]		Przybliżony czas powstania [2 pkt]	

--

Cechy charakterystyczne stylu (4 cechy) [4 pkt]		Cechy charakterystyczne stylu (4 cechy) [4 pkt]	
Przykład innej budowli w tym stylu [2 pkt]		Przykład innej budowli w tym stylu [2 pkt]	

			
Styl [2 pkt]		Styl [2 pkt]	
Przybliżony czas powstania [2 pkt]		Przybliżony czas powstania [2 pkt]	






Cechy charakterystyczne stylu (4 cechy) [4 pkt]		Cechy charakterystyczne stylu (4 cechy) [4 pkt]	
Przykład innej budowli w tym stylu [2 pkt]		Przykład innej budowli w tym stylu [2 pkt]	

### Pytanie 16 [20 pkt]

1. Przyporządkuj podane nazwy do poszczególnych części kolumny [14 pkt]:

stylobat, trzon, architrav, baza, gzyms, głowica, fryz

7	
6	
5	
4	
3	
2	
1	



2. Nazwij porządek kolumny, przedstawiony na zdjęciu. [6 pkt]

.....

**PTTK jako organizacja****Pytanie 17 [ 18 pkt.]**

Wymień i krótko scharakteryzuj Władze Naczelne PTTK.

--

**Pytanie 18 [12 pkt.]**

Wymień 3 muzea PTTK i 3 obiekty noclegowe należące do OM PTTK.

Muzea PTTK	Obiekty noclegowe OM PTTK

**Pytanie 19 [30 pkt.]**

1. Krótko wyjaśnij pojęcia (co Ci mówią, z czym Ci się kojarzą poniższe terminy): [24 pkt.]

Oddział Międzyuczelniany	
Terenowy Referat Weryfikacyjny	
Organizacja pożytku publicznego	
Walny Zjazd PTTK	
Członek honorowy PTTK	
Jednostka Specjalistyczna PTTK (podaj przykłady)	
ul. Senatorska 11	
Komisja Stała PTTK (podaj przykłady)	

--

2. Z czym Ci się kojarzą poniższe postaci: [6 pkt.]

Kazimierz Kulwieć	
Roman Bargieł	

### Pytanie 20 [10 pkt.]




Wymień po 5 praw i obowiązków członka zwyczajnego PTTK




prawa	obowiązki

### Pytanie 21 [30 pkt.]

(Zwolnienie dla osób posiadających odznaki TAK/NIE)

1. Podaj pełne nazwy poniższych odznak – bez stopnia. [18 pkt.]:

ODZNAKA	NAZWA
	
	
	

2. Wymień 3 odznaki ustanowione przez Oddział Międzyuczelniany PTTK w Warszawie [12 pkt.]:


## Pierwsza pomoc

### Pytanie 22 [16 pkt.]

Podaj telefony alarmowe do następujących służb:

Służba	Numer telefonu
• TOPR	
• Policja	
• Pogotowie ratunkowe	
• WOPR	
• Centrum powiadamiania ratunkowego	
• GOPR	
• Straż miejska	
• Straż pożarna	

**Pytanie 23 [24 pkt.]**

Krótko opisz jak zachowasz się w następujących sytuacjach:

1. Widzisz zbliżający się do prowadzonej przez Ciebie grupy śmigłowiec ratowniczy a nie potrzebujesz jego pomocy.

2. Jeden z uczestników wyjazdu prosi Cię o Aspirynę na noc.

3. Organizujesz dwutygodniowy obóz wędrowny w górach. Co poradzisz uczestnikom, aby zminimalizować ryzyko pojawienia się otarć i pęcherzy na stopach?

4. Uczestnikowi wycieczki, którą prowadzisz zaczyna lecieć obficie krew z nosa.

**Pytanie 24 [20 pkt.]**

Jest piękna zimowa pogoda – słońce i - 15C, organizujesz całodniową wycieczkę do Puszczy Kampinoskiej. Jak powinni przygotować się uczestnicy i co ze sobą zabrać?

**Pytanie 25 [25 pkt.]**

Prowadzisz 8 osobową wycieczkę po Bieszczadach jednego z uczestników ukąsiła żmija. Musisz wezwać pomoc. Jakie masz możliwości wezwania pomocy? Wymień co najmniej 3.

Jakie informacje podasz dyspozytorowi dzwoniąc po numer alarmowy? Wymień 5 z nich.

**Pytanie 26 [15 pkt.]**

Podaj schemat resuscytacji osoby dorosłej.

--

**Geografia Turystyczna Polski****Pytanie 27 [30 pkt.]**

1. Przyporządkuj poniższym obiektom z listy Światowego Dziedzictwa UNESCO nazwy miejscowości, w których obiekty te się znajdują. [20 pkt]

1	Zamek Krzyżacki
2	Niemiecki nazistowski obóz koncentracyjny i zagłady Auschwitz-Birkenau
3	Królewska Kopalnia Soli
4	Manierystyczny zespół architektoniczny i krajobrazowy oraz park pielgrzymkowy z XVII w
5	Hala Stulecia
6	Cerkiew Opieki Bogurodzicy
7	Kościół drewniany w południowej Małopolsce
8	Stare Miasto - przykład renesansowej zabudowy miejskiej
9	Kościół pokoju
10	Średniowieczny zespół miejski

	Bochnia
	Kalwaria Zebrzydowska
	Lipnica Murowana
	Malbork
	Oświęcim
	Owczary
	Świdnica
	Toruń
	Wrocław
	Zamość

2. Wymień 5 obiektów Światowego Dziedzictwa UNESCO znajdujących się na terenie województwa małopolskiego. [10pkt]

--

**Pytanie 28 [34 pkt.]**

1. Z poniższej listy szczytów górskich wybierz 5 szczytów należących do Korony Gór Polski i dopisz, w jakim paśmie górskim się one znajdują. [10pkt]

Turbacz, Skrzyczne, Wielka Racza, Wysoka (Wysokie Skalki), Wielka Sowa, Łysa Góra, Kowadło, Skopiec, Trzy Korony, Jaworzyna Krynicka, Babia Góra


--

	Szczyt [2pkt]	Pasma [2pkt]
1		
2		
3		
4		
5		

2. Przyporządkuj podanym miejscowościom znajdujące się tam charakterystyczne obiekty [14 pkt.]

1	Kruszwica	
2	Biskupin	
3	Malbork	
4	Sanok	
5	Białystok	
6	Częstochowa	
7	Gniezno	

A	bazylika archikatedralna Wniebowzięcia NMP
B	Jasna Góra
C	Muzeum Budownictwa Ludowego
D	Mysia Wieża
E	rezerwat archeologiczny - Muzeum Archeologiczne
F	Zamek Krzyżacki
G	zespół pałacowo-parkowy

**Pytanie 29 [36 pkt.]**

1. Zaznacz na mapie cyframi od 1-6 wybrane stolice województw. Wpisz je poniżej do tabeli oraz dopisz jakiego województwa jest to stolica. [24pkt]

	Miasto wojewódzkie [2pkt]	Województwo [2pkt]
1		
2		
3		
4		
5		
6		





2. Zaznacz na mapie odpowiednimi cyframi (od 7 do 16) wybrane **sześć** miejscowości z poniższej listy [12pkt]

7	Krościenko nad Dunajcem	12	Starogard Gdański
8	Wieliczka	13	Przemyśl
9	Krynica Morska	14	Elbląg
10	Tarnów	15	Ostrowiec Świętokrzyski
11	Nidzica	16	Sandomierz

## Historia turystyki

### Pytanie 30 [24 pkt.]

Opisz krótko historię „Sporu o Morskie Oko” Uwzględnij rolę i działania TT.

### Pytanie 31 [40 pkt.] *test jednokrotnego wyboru*

Zaznacz prawidłową odpowiedź:

1. Na pieczęci PTK nie znajduje się herb:

- a) Krakowa
- b) Poznania

- c) Gdańska
- d) Warszawy

2. Który z poniższych szczytów znajdował się na ziemiach zaboru rosyjskiego.

- a) Śnieżka
- b) Rysy

- c) Howerla
- d) Łysica

3. Kto wyznakował Perć Akademików na Babiej Górze:

- a) Walery Eljasz Radzikowski
- b) Mieczysław Karłowicz

- c) Władysław Midowicz
- d) Mieczysław Orłowicz

4. Spór o budowę Kolei Linowej na Kasprowy Wierch toczył się pomiędzy:

- a) PTTK i PKL
- b) PTT i PZN

- c) PTK i PKP
- d) PTT i Beskidenverein

5. TOPR powstało w 1909 roku:

- a) po tragicznej śmierci Mieczysława Karłowicza pod lawiną
- b) po śmierci Klimka Bachledy na Małym Jaworowym
- c) po apelu Zaruskiego, Karłowicza i Dłuskiego do społeczeństwa o składanie datków na sfinansowanie akcji ratunkowych
- d) po powstaniu Kolejki na Kasprowy Wierch



6. Inicjatorem budowania bacówek PTTK był:

- a) Tytus Chałubiński  
b) Władysław Midowicz  
c) Edmund Massalski  
d) Edward Moskała

7. Pierwsze muzeum na ziemiach polskich założone przez Izabelę Czartoryską powstało w:

- a) Warszawie  
b) Krakowie  
c) Puławach  
d) Zamościu

8. Kto był pierwszym Polakiem na Łomnicy:

- a) Tytus Chałubiński  
b) Stanisław Staszic  
c) ks. Walenty Gadowski  
d) ks. Józef Stolarczyk

9. Rok powstania Oddziału Międzyuczelnianego PTTK w Warszawie to:

- a) 1935  
b) 1960  
c) 1950  
d) 1990

10. Które wydawnictwo nie należało do PTT:

- a) Tatarnik  
b) Ziemia  
c) Wierchy  
d) Pamiętnik Towarzystwa Tatrzańskiego

### Pytanie 32 [12 pkt.]

W 2015 roku obchodzimy okrągłą rocznicę ustanowienia najstarszej odznaki turystyki kwalifikowanej PTTK (wcześniej PTT).

Podaj pełną nazwę odznaki:	
Która to rocznica:	

### Pytanie 33 [24 pkt.]

Przygotuj podane daty do poniższych wydarzeń: (1565, 1873, 1874, 1887, 1906, 1906, 1920, 1950, 1952)

WYDARZENIE	DATA
Założenie PTK	
Pierwsza udokumentowana wycieczka turystyczna w Tatry	
Założenie PTTK, po połączeniu PTT z PTK	
Założenie GTT	
Utworzenie GOPR	
Otwarcie pierwszego schroniska TT w Beskidach	
Zmiana nazwy TT na PTT	
Wyznakowanie pierwszego szlaku w Tatrach	



## Terenoznawstwo

### Pytanie 34 [50 pkt.]

Mając do dyspozycji fragment mapy jak poniżej odpowiedz na poniższe pytania.

1.	Podaj nazwę i wysokość n.p.m. najwyższego punktu na mapie [5+5pkt.]	
2.	Podaj 3 możliwości noclegowe na obszarze mapy [ 5 pkt.]	
3.	Podaj azymut z Kolanina na Ostrysz (przyjmując, że północ jest w kierunku góry kartki z mapą) [5 pkt.]	
4.	Podaj odległość przejścia (km) i sumę podejść (m) najkrótszym możliwym wariantem trasy z Przełęczy Halbowskiej do leśniczówki w Świątkowej Wielkiej [5+5 pkt.]	
5.	Ile jest zabytkowych świątyń na obszarze mapy i z którego roku pochodzi najstarsza z nich? [5+5 pkt.]	
6.	Wymień 3 atrakcje krajoznawcze na terenie poza obiektami, o których mowa w pkt. 5. [5 pkt.]	
7.	Wymień 3 szlaki turystyczne przebiegające przez teren [5 pkt.]	

### Pytanie 35 [20 pkt.]

Narysuj strzałkę w odpowiednim kierunku, przyjmując, że północ jest w kierunku góry kartki.

S	
NNE	

W	
SE	


### Pytanie 36 [15 pkt.]

Podaj 3 sposoby odnalezienia północy w terenie bez użycia kompasu ani innych urządzeń służących do nawigacji.


### Pytanie 37 [15 pkt.]

Wypełnij poniższą tabelę i odpowiedz na pytanie: (5 pkt. za każdą prawidłową odpowiedź)

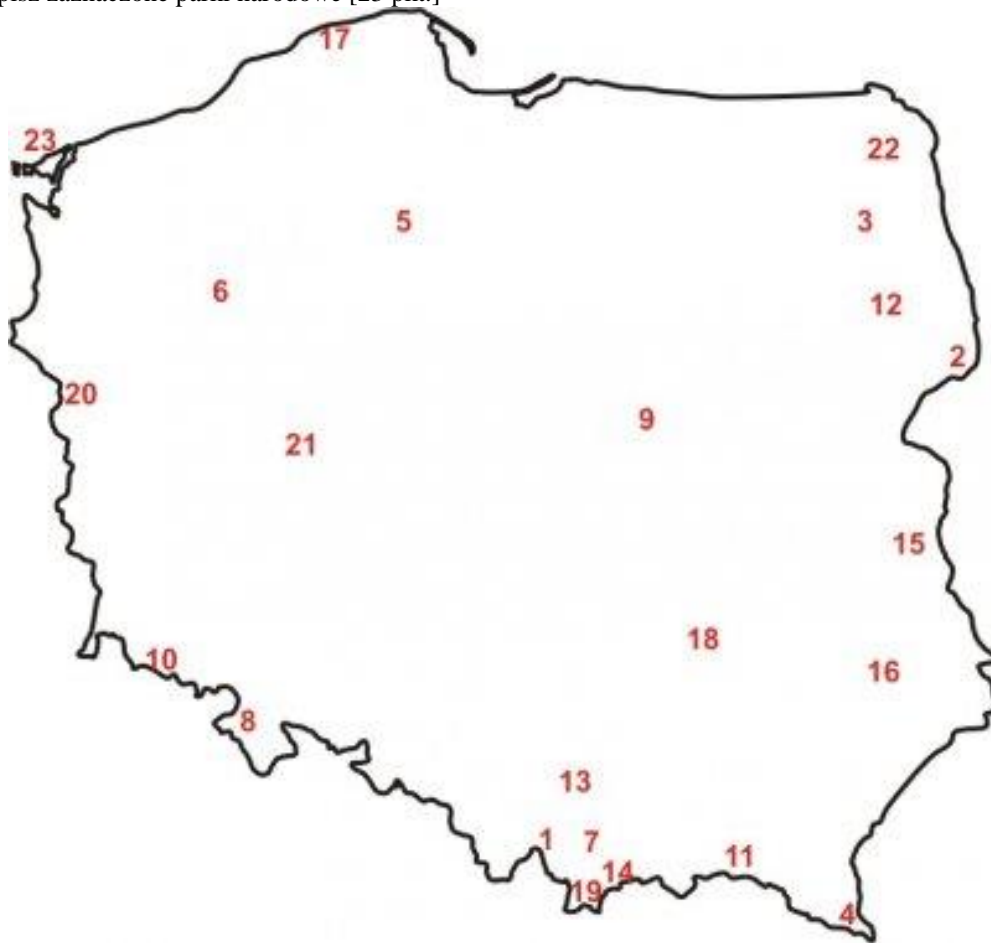
	Skala mapy	Odległość na mapie	Odległość w terenie
a)	1 : 5 000		1250 m
b)		0,8 dm	2 km
c)	1 : 50 000	40 mm	



## Przyroda i jej ochrona

### Pytanie 38 [44 pkt.]

- a) Podpisz zaznaczone parki narodowe [23 pkt.]



*Autor: dr Krzysztof Jarzyna z Instytutu Geografii UJK w Kielcach*

1		13	
2		14	
3		15	
4		16	
5		17	
6		18	
7		19	
8		20	
9		21	
10		22	
11		23	
12			

--

b) Podaj nazwy 3 parków narodowych o górskim charakterze [6 pkt.]

--	--	--

c) Opisz krótko wybrany park narodowy, charakteryzując ukształtowanie terenu, florę, faunę, atrakcje i zagospodarowanie turystyczne [15 pkt.]

--

### Pytanie 39 [17 pkt.] test jednokrotnego wyboru

1. Co jest przedmiotem ochrony w ramach obszarów Natura 2000? [3pkt]
  - a. torfowiska
  - b. płazy i ich siedliska
  - c. ptaki i ich siedliska
2. Wskaż te parki narodowe, w których można oglądać gołoborza? [3pkt]
  - a. Tatrzański i Gorczański
  - b. Babiogórski i Karkonoski
  - c. Stołowych i Magurski
3. Zgodnie z przepisami prawa Unii Europejskiej każdy z krajów członkowskich został zobowiązany do wyznaczenia obszarów specjalnej ochrony. Sieć ta nosi nazwę : [3pkt]
  - a. obszary chronionego krajobrazu
  - b. NATURA 2000
  - c. rezerwaty biosfery
4. Samica jelenie to: [4 pkt]
  - a. sarna
  - b. łania
  - c. klempa
  - d. locha
5. Strefa ochronna granicząca z formą ochrony przyrody, wyznaczona dla jej zabezpieczenia przed zagrożeniami zewnętrznymi wynikającymi z działalności człowieka, to: [4 pkt]
  - a. otulina
  - b. ekosystem
  - c. obszar specjalnej ochrony (ptaków)
  - d. specjalny obszar ochrony (siedlisk)

### Pytanie 40 [39 pkt.] test jednokrotnego wyboru

1. Wymień 5 form ochrony przyrody oraz podaj po jednym przykładzie dla każdej z wymienionych form. [20 pkt]

Forma ochrony przyrody	Przykład

--


2. Wymień 5 gatunków drzew występujących w polskich lasach. [10 pkt]

--	--	--	--	--

3. Wymień nazwy 3 puszczy (dużych kompleksów leśnych) w Polsce: [9 pkt]

--	--	--

## Zagadnienia prawne w turystyce

### Pytanie 41 [20 pkt.]

Jakie elementy powinno zawierać rozliczenie imprezy organizowanej w ramach OM PTTK w Warszawie?

--

### Pytanie 42 [30 pkt.]

Krótko opisz jak zachowasz się w następujących sytuacjach:

1. Kierownik pociągu, którym jedziesz chce zarekwirować legitymację studencką uczestnika Twojego obozu, twierdząc że jest podrobiona.

--

2. Na rynku w Tykocinie umundurowany funkcjonariusz Straży granicznej prosi Cię i grupę, którą prowadzisz o pokazanie dokumentów i zawartości plecaka.

--


### Pytanie 43 [30 pkt.] wielokrotnego wyboru

Po zmroku idziesz z 8 osobową grupą drogą poza terenem zabudowanym. Zaznacz właściwe zachowanie grupy.

1. Grupa powinna iść po prawej stronie drogi
2. Pierwsza osoba w grupie powinna mieć białe światelko a ostatnia czerwone
3. Wymagane jest by pierwsza i ostatnia osoba miała na sobie kamizelkę odblaskową
4. Wszystkie osoby powinny mieć elementy odblaskowe.

Która z poniższych informacji dotyczących wyjazdów zagranicznych jest prawdziwa?:

1. Aby przekroczyć granicę w ramach strefy Schengen należy mieć przy sobie paszport lub dowód osobisty
2. Kontrola celna może odbywać się w każdym miejscu strefy Schengen
3. Do niektórych krajów nie można wjeżdżać z paszportem którego okres ważności jest krótszy niż 6 miesięcy



4. Granice wewnętrzne strefy Schengen można przekraczać tylko w wyznaczonych miejscach

Która z poniższych informacji dotyczących Oddziału Międzyuczelnianego PTTK jest prawdziwa?:

1. Nie prowadzi działalności gospodarczej.
2. Jest OPP.
3. Nie jest stowarzyszeniem rejestrowym.
4. Podlega przepisom Ustawy o usługach turystycznych.

Wolontariusz OM:

1. Musi mieć aktualny znaczek członkowski PTTK.
2. Może być członkiem dowolnego oddziału.
3. Musi mieć uprawnienia państwowe.
4. Ma podpisaną umowę o wolontariacie z OM

Każdy członek PTTK:

1. jest objęty ubezpieczeniem OC przez 24h
2. jest objęty ubezpieczeniem NNW działającym na terenie całego świata przez 24h
3. ma prawo korzystania ze zniżek w schroniskach PTTK

Ubezpieczenie NNW w ramach PTTK podczas imprezy OM PTTK obejmuje:

1. członka PTTK
2. kierownika imprezy
3. uczestnika imprezy po wykupieniu krótkoterminowego NNW
4. wolontariusza OM PTTK

#### **Pytanie 44 [20 pkt.]**

Wymień kraje, z którymi graniczy Polska, a które nie należą do strefy Schengen.

Co zrobisz jeśli zgubisz paszport za granicą, w kraju, w którym nie ma polskiej ambasady ani konsulatu?